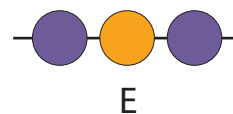
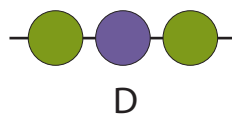
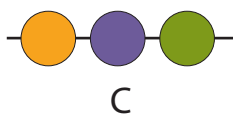
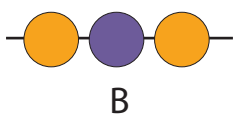
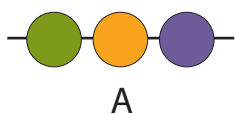
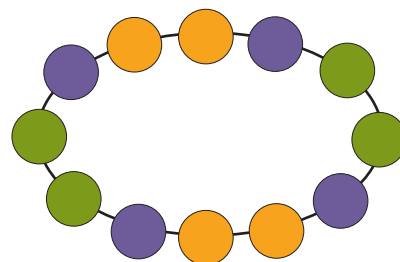



Vilken bild visar en del av halsbandet?



Problem 2

Anna använde 32 små vita kvadrater till en ram runt en bild som var 7 rutor bred och 7 rutor hög.

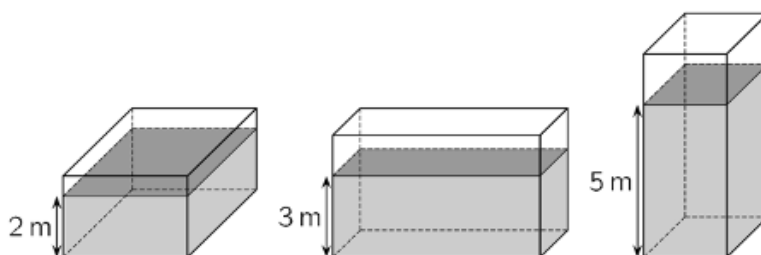
Hur många sådana små vita kvadrater behöver hon till en ram runt en bild som är 10 rutor bred och 10 rutor hög?



Problem 3

En behållare som har formen av ett rätblock är delvis fylld med 120 m^3 vatten.

Vattendjupet är antingen 2 m, 3 m eller 5 m beroende på vilken sida behållaren står på.



Vilken volym har behållaren?