




Sari betalade 15 kr för tre kakor.  
Viggo betalade 24 kr för två bullar.  
Hur mycket ska Amir betala för en kaka  
och en bulle?



## Problem 2

En golvläggare lägger kvadratiska golv av svarta och vita plattor, så som bilderna visar. I hörnen lägger han alltid svarta plattor.  
På bilden ser du ett golv med 4 svarta och ett med 9 svarta plattor.



Han ska lägga ett golv med 25 svarta plattor efter samma mönster.  
Hur många vita plattor behöver han?

## Problem 3

Marie har nio pärlor som väger 1 g, 2 g, 3 g, 4 g, 5 g, 6 g, 7 g, 8 g och 9 g.  
Hon gör fyra ringar med två pärlor på varje.  
Pärlorna på de fyra ringarna väger 17 g, 13 g, 7 g och 5 g.  
Vad väger den pärla som blev över?

