


Tre personer gick över snön med leriga skor.

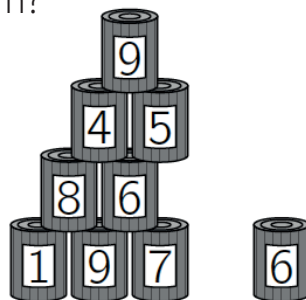
I vilken ordning gick de?



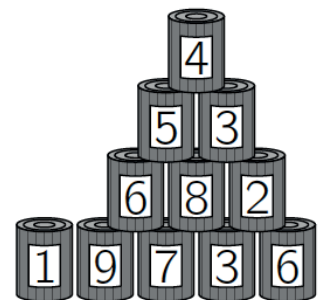
Problem 2

Malin och William kastar bollar mot burkar som är uppställda som pyramider. Pyramiderna består av 15 burkar och de är precis likadana. Malin slår ner sex burkar och får 25 poäng. William slår ner 4 burkar.

Hur många poäng får William?



Efter Malins kast



Efter Williams kast

Problem 3

Gustav har ritat lika stora rektanglar. Över rektanglarna har han ritat en triangel med basen 10 cm och höjden 6 cm. De delar av rektanglarna som sticker ut utanför triangeln är grå.

Hur stort är området som är grått?

