

1 I vilket moln är alla tal mindre än 7?



A



B



C



D



E

(Kroatien)


2 Jon gör par av strumporna.
Hur många par kan han göra?



A: 8 B: 6 C: 5 D: 4 E: 3

(Polen)

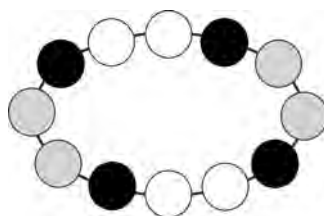
3 Per Olsson har 12 hästskor.
Alla hans hästar ska få nya skor på alla hovar.
Hur många hästar har han?



A: 12 B: 6 C: 4 D: 3 E: 2

(Slovakien)

4



Vilken bild visar en del av halsbandet?



A



B



C




D




E

(Danmark)




- 5 Hur många burkar står på en annan plats i den andra bilden?



A: 2 B: 3 C: 4 D: 5 E: 6

(Tyskland)

- 6 Karin ska klippa ut en bit ur den här bilden.



Vilken bit kan hon få?



A



B



C



D



E

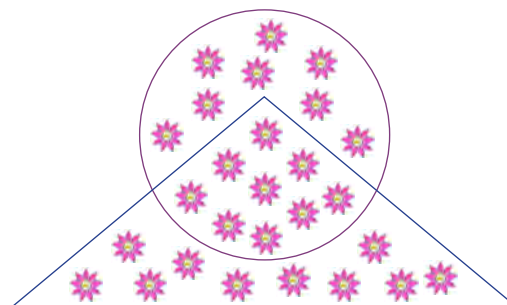
(Danmark)

- 7 Om det är tisdag i morgon, vilken dag var det då igår?

A: söndag B: torsdag C: onsdag D: måndag E: lördag

(Polen)

- 8 Hur många blommor ligger innanför cirkeln men utanför triangeln?




A: 8 B: 9 C: 10 D: 17 E: 19

(Slovakien)


- 9 Vi kostar 6 kr tillsammans.



- Vi kostar 8 kr tillsammans.



- Hur mycket kostar vi tillsammans?

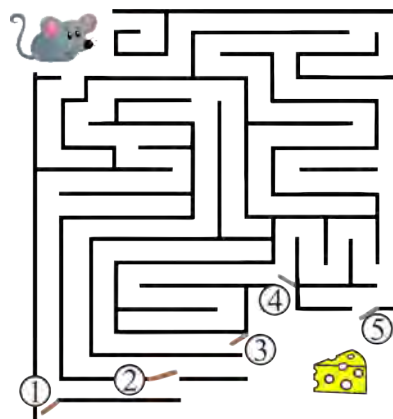


A: 5 kr B: 6 kr C: 7 kr D: 8 kr E: 9 kr

(Brasilien)



10 Du ska stänga två grindar så att musen *inte* kan ta osten.



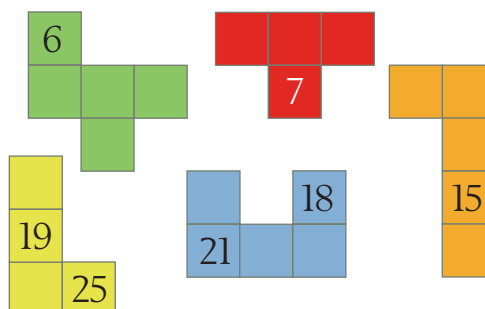
Vilka grindar ska du stänga?

- A: 1 och 2 B: 2 och 3 C: 3 och 4 D: 3 och 5 E: 4 och 5

(Pakistan)

11 Tabellen klipps i sex bitar. Fem bitar ser du till höger.


1	2	3	4	5
6	7	8	9	10
11	12	13	14	15
16	17	18	19	20
21	22	23	24	25



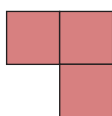
Vilken form har den sjätte biten?




A



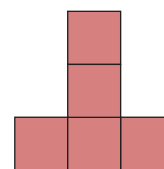
B



C



D



E


(Tjeckien)

12 Det står 12 barn i kö. Mika står på sjunde plats framifrån.
Kim står på andra plats bakifrån.
Hur många barn står mellan Mika och Kim i kön?


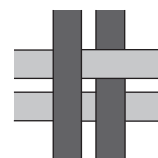


- A: 2 B: 3 C: 4 D: 5 E: 6

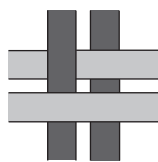
(Tyskland)



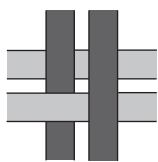
- 13 Två mörka och två ljusa band är vävda som bilden visar.
Hur ser väven ut från andra sidan?



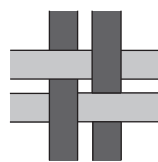
A



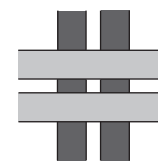
B



C



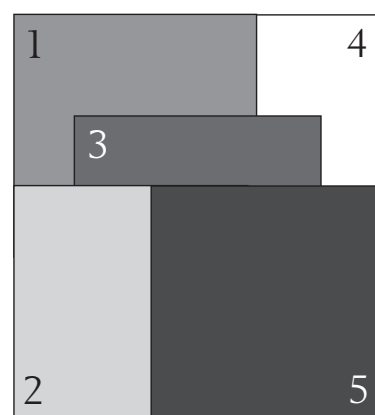
D



E

(Danmark)

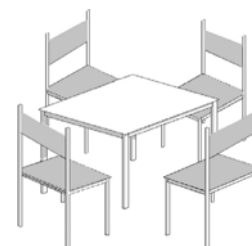
- 14 Fem papperskvadrater ligger i en hög på bordet.
Du ska plocka upp dem en i taget och varje gång ta den som ligger överst.
I vilken ordning ska du göra det?



A: 5-2-3-1-4 B: 5-2-3-4-1 C: 4-5-2-3-1 D: 5-3-2-1-4 E: 1-2-3-4-5

(Bulgarien)

- 15 Vid varje sida av bordet kan det sitta ett barn.
Vi sätter ihop fyra sådana bord till ett långt bord.
Hur många barn får plats runt det långa bordet?



A: 4 B: 6 C: 10 D: 12 E: 16

(Slovakien)

- 16 I en hage på zoo går det 10 djur.
Det är kameler som har två pucklar och dromedarer som har en puckel.
Sammanlagt är det 14 pucklar.
Hur många av djuren är dromedarer?

A: 2 B: 4 C: 5 D: 6 E: 8

(Uzbekistan)



Ett problem som du kan arbeta med om du får tid över och vill ha mer att fundera på.

På bondgården finns det får och kor.
Det finns åtta fler får än kor.
Det finns hälften så många kor som får.
Hur många är korna och fåren tillsammans?

(Belarus)
