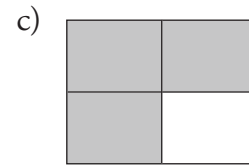
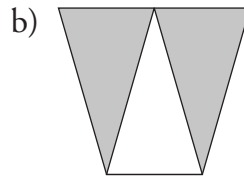
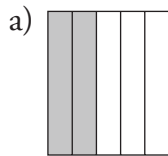


DIAGNOS RB2

Namn _____ Klass _____

1 Hur stor del av figuren är skuggad?



Svar: _____

Svar: _____

Svar: _____

2 Skriv med siffror (i bråkform)


a) två tredjedelar _____

b) tre femtedelar _____

c) tre fjärdedelar _____

d) fem sjättedelar _____


3 a) Skugga $\frac{2}{5}$ av figuren.



b) Skugga $\frac{3}{4}$ av figuren.



c) Skugga $\frac{5}{6}$ av figuren.




4. Skugga $\frac{2}{3}$ av följande figurer.

a)



b)



c)

