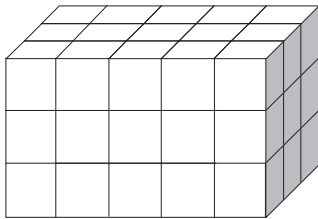


DIAGNOS MAR5

Namn _____ Klass _____

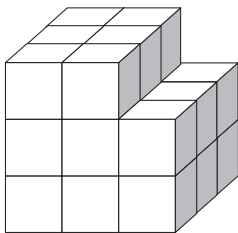
Alla kroppar i diagnosen är uppbyggda av centikuber.

- 1** Ange begränsningsarean av rätblocket



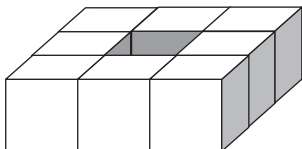
Svar: _____ cm^2

- 2** Ange begränsningsarean av nedanstående kropp.



Svar: _____ cm^2

- 3** Denna kropp är uppbyggd av åtta kuber. Ange begränsningsarean.



Svar: _____ cm^2