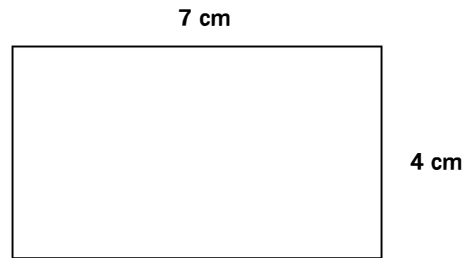


DIAGNOS MAR3

Namn _____ Klass _____

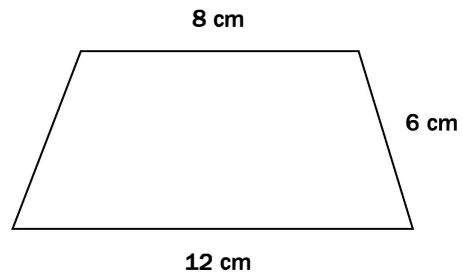
- 1** Beräkna arean av rektangeln i figuren

Svar: Arean är _____



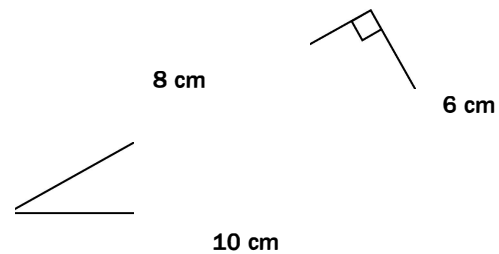
- 2** Beräkna arean av parallelltrapetset

Svar: Arean är _____



- 3** Beräkna arean av triangeln

Svar: Arean är _____



- 4** Beräkna arean av fyrhörningen i figuren

Svar: Arean är _____

