

# DIAGNOS GSK2

Namn \_\_\_\_\_ Klass \_\_\_\_\_

**Material:** En graderad linjal

- 1** Bilden till höger är förstorad. Vilken skala är bilden ritad i?  
Fyll i rutan under bilden.

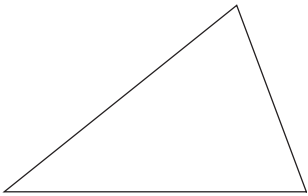
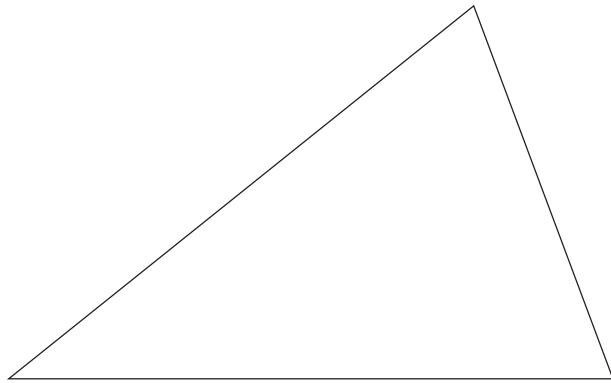


Bild av föremål i naturlig storlek (skala 1:1)



Svar: Bild i skala \_\_\_\_\_ :1

- 2** Bilden till höger är förminskad. Vilken skala är bilden ritad i?  
Fyll i rutan under bilden.





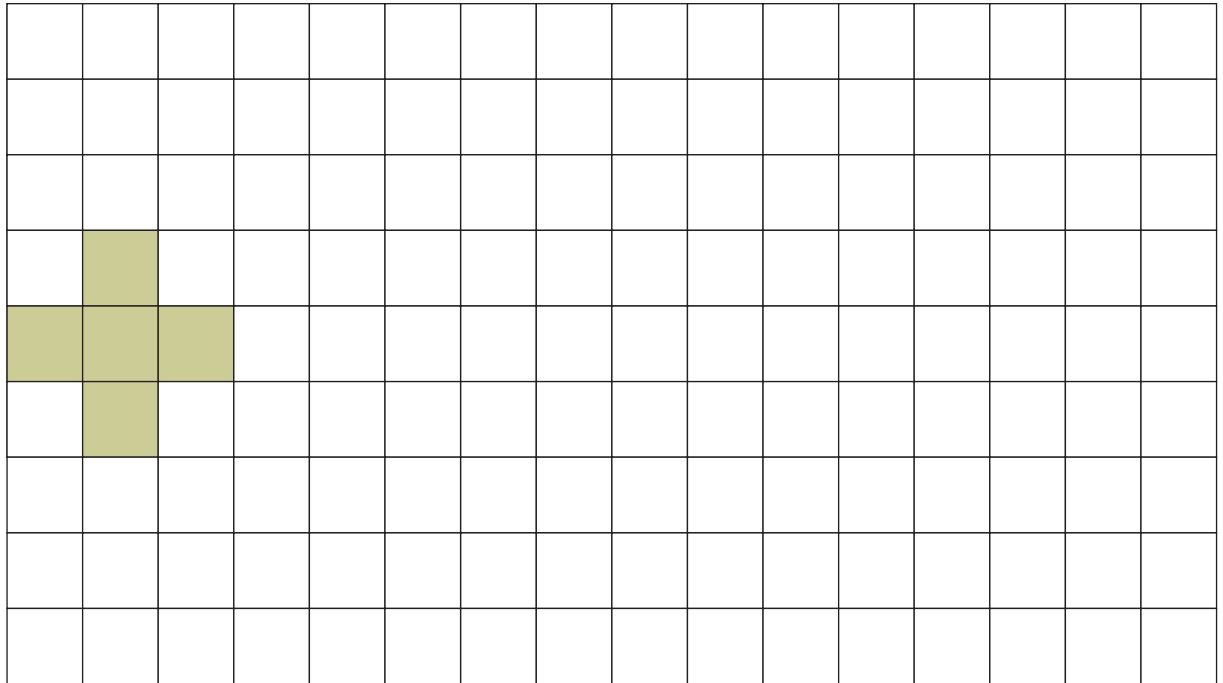
Bild av föremål i naturlig storlek (skala 1:1)



Svar: Bild i skala 1: \_\_\_\_\_

# DIAGNOS GSk2

3 Till höger om figuren ska du rita en bild av figuren i skala 3:1.




4 De här figurerna är avbildade i olika skalor.  
Hur långa är föremålen i verkligheten?

a) Nyckelpigan är \_\_\_\_\_ cm lång.    b) Giraffen är \_\_\_\_\_ m lång.



Skala 3:1



Skala 1:100