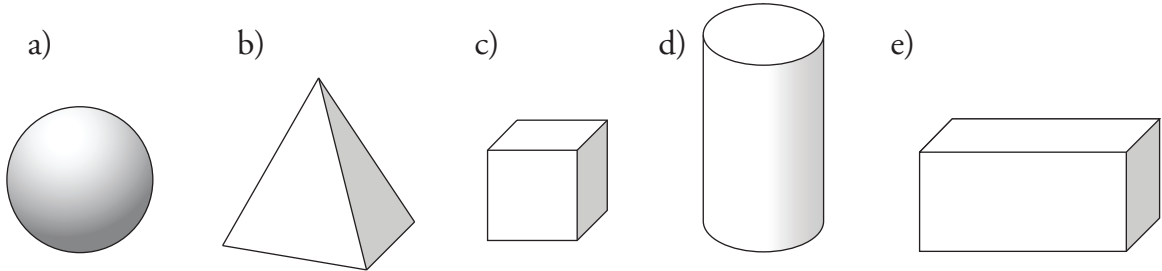


# DIAGNOS GFo4

Namn \_\_\_\_\_ Klass \_\_\_\_\_

**1** Vad kallas dessa objekt (kroppar)?



Svar: a kallas \_\_\_\_\_ b kallas \_\_\_\_\_

c kallas \_\_\_\_\_ d kallas \_\_\_\_\_

e kallas \_\_\_\_\_

**2** En kub har (skriv hur många)

a) \_\_\_\_\_ sidoytor                      b) \_\_\_\_\_ hörn                      c) \_\_\_\_\_ kanter



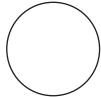
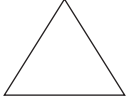
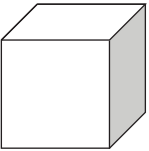
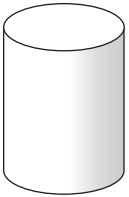
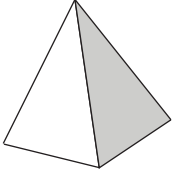
**3** En pyramid vars basyta är en kvadrat har (skriv hur många)

a) \_\_\_\_\_ sidoytor                      b) \_\_\_\_\_ hörn                      c) \_\_\_\_\_ kanter

# DIAGNOS GFo4

- 4 Vilka av formerna i den översta raden behöver du för att bygga föremålen till vänster i tabellen?

Skriv i rätt rutor *hur många* av figurerna du behöver använda.

				
a) 				
b) 				
c) 				
d) 