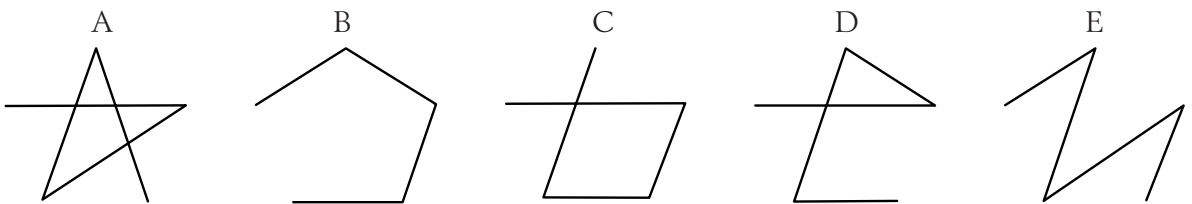

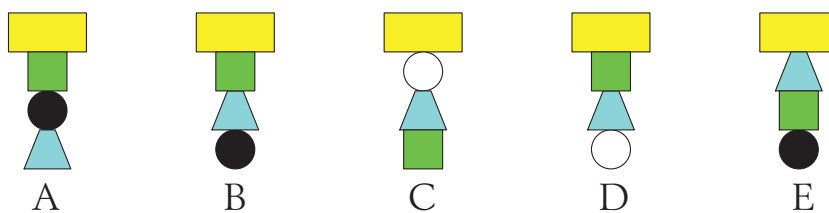
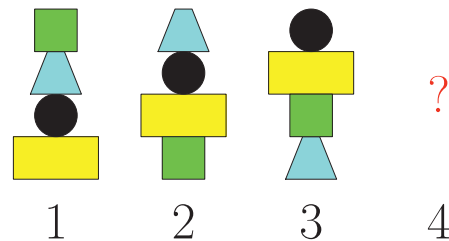


- 1 Dra en linje mellan nyckelpigorna.  
Starta med den nyckelpiga som har 1 prick  
och gå i ordning efter hur många prickar de har.  
Vilken bild visar rätt väg?



(Polen)

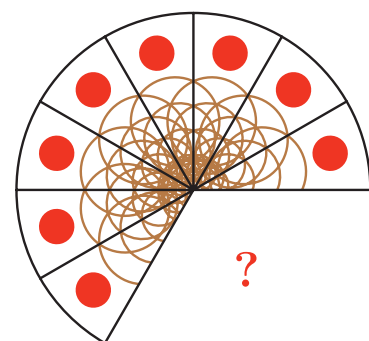
- 2 Emilie bygger torn och följer ett mönster:  
Hur ser torn nummer 4 ut?



(Danmark)

- 3 Pizzan är delad i lika stora delar.  
Hur många bitar är borta?

A:1 B:2 C:3 D:4 E:5



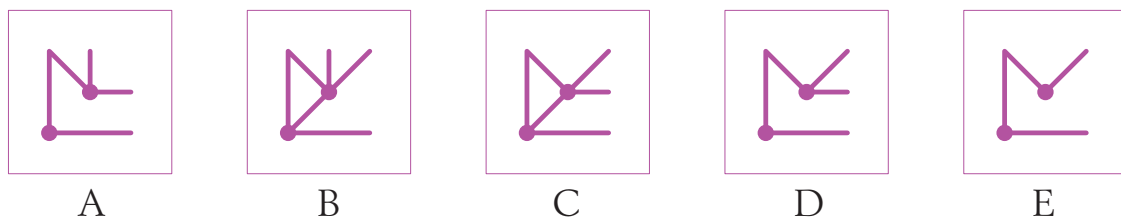
(Danmark)



4 Oskar har två genomskinliga glasskivor med en bild på.




Han lägger skivorna ovanpå varandra. Hur ser det ut då?



(Danmark)

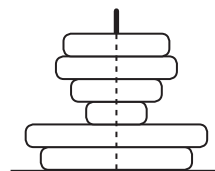
5 Flera stjärnor med fyra spetsar ligger på varandra:  
Hur många sådana stjärnor ser du?



A: 5    B: 6    C: 7    D: 8    E: 9

(Belarus)

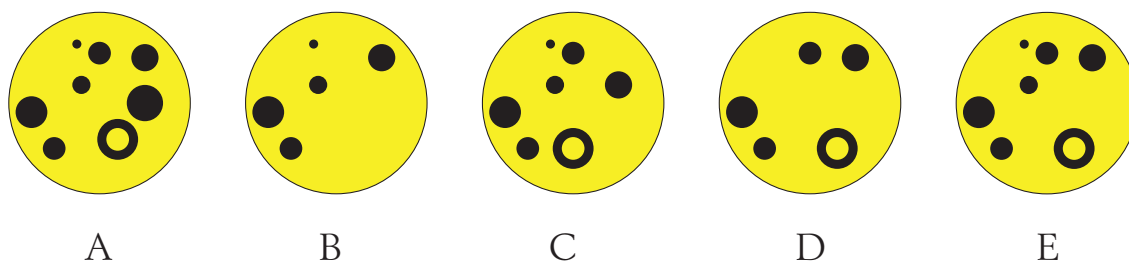

6 Teodor har byggt ett torn med ringar.  
Han tittar på tornet uppifrån.  
Hur många ringar kan han se?




A: 1    B: 2    C: 3    D: 4    E: 5

(Ryssland)


7 Det ljusa ska bli mörkt och det mörka ska bli ljust.  
Vilken bild får du då?



(Danmark)



- 8 Det ska vara lika många kängurur i båda parkerna.  
Hur många kängurur måste flytta från ena parken till den andra?



A: 4    B: 5    C: 6    D: 8    E: 9

(Grekland)

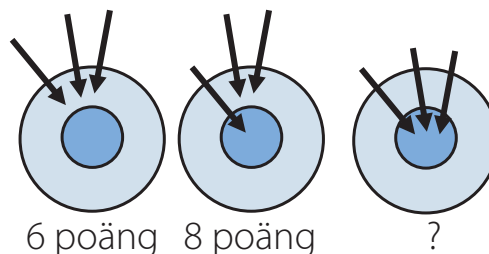
- 9 Nyckelpigorna ska ha 20 prickar tillsammans. Vilken måste flyga bort?



A                    B                    C                    D                    E

(Slovakien)

- 10 Diana kastar tre pilar.  
Först fick hon 6 poäng.  
Andra omgången fick hon 8 poäng.  
Hur många poäng fick hon den tredje omgången?



6 poäng    8 poäng    ?

A: 8    B: 10    C: 12    D: 14    E: 16


(Grekland)

- 11 Hur många bilder visar höger hand?




A: 3    B: 4    C: 5    D: 6    E: 7


(Pakistan)



12 Lisa har 4 pusselbitar.



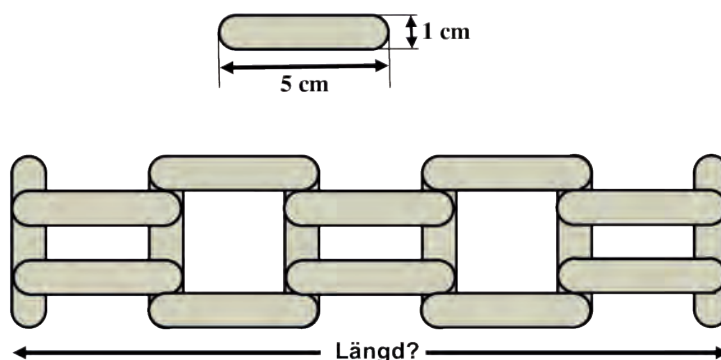
För att lägga pusslet behöver hon 3 bitar.  
Vilken bit blir över?



A: A      B: B      C: C      D: D      E: C eller D

(Danmark)

13 Kalle har stickor som är 5 cm långa och 1 cm breda.  
Han bygger ett staket med stickorna.  
Hur långt är staketet?



A: 20 cm      B: 21 cm      C: 22 cm      D: 23 cm      E: 25 cm

(Grekland)

14 Alice har 3 vita, 2 blå and 2 röda papper.  
Hon delar de röda och vita pappren på mitten.  
Sen delar hon alla röda och blå på mitten.  
Hur många pappersbitar har hon sen?

A: 14      B: 16      C: 17      D: 18      E: 20





(Litauen)



15 Nelly köpte 4 leksaker. Hon jämförde priset på dem:



Vilken leksak är dyrast?

A:  B:  C:  D:  E: Alla kostar lika mycket.

(Belarus)

16 En sjörövare har två kistor.  
I den vänstra ligger det 10 guldmynt.  
Den andra är tom.



I morgon ska sjörövaren lägga 1 guldmynt i den vänstra kistan  
och 2 guldmynt i den andra.  
Sen fortsätter han så varje dag tills det är lika många mynt i båda kistorna.  
Hur många dagar tar det?

A:5 B: 8 C: 10 D: 12 E: Det händer aldrig

(Grekland)