


Till alla elever



# Välkommen till Kängurun – Matematikens hopp 2014 Milou




*Lycka till med årets problem!*

Ett övningsproblem att börja med. Ringa in rätt svar.

---

## Övningsproblem

Hur många ben har djuren tillsammans?



2

4

6

8


10

---



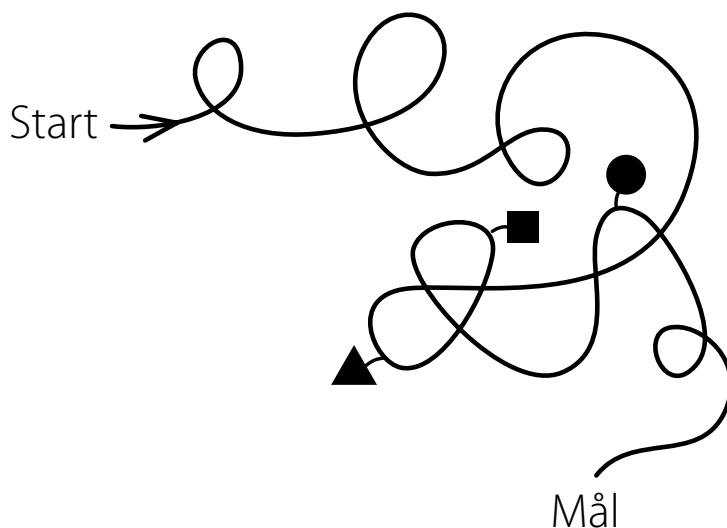
---

1 Vilken är Elins skugga? Ringa in den.



---

2 I vilken ordning kommer formerna?






3 Marco bor i huset med fem våningar och tre balkonger.

Ringa in det.



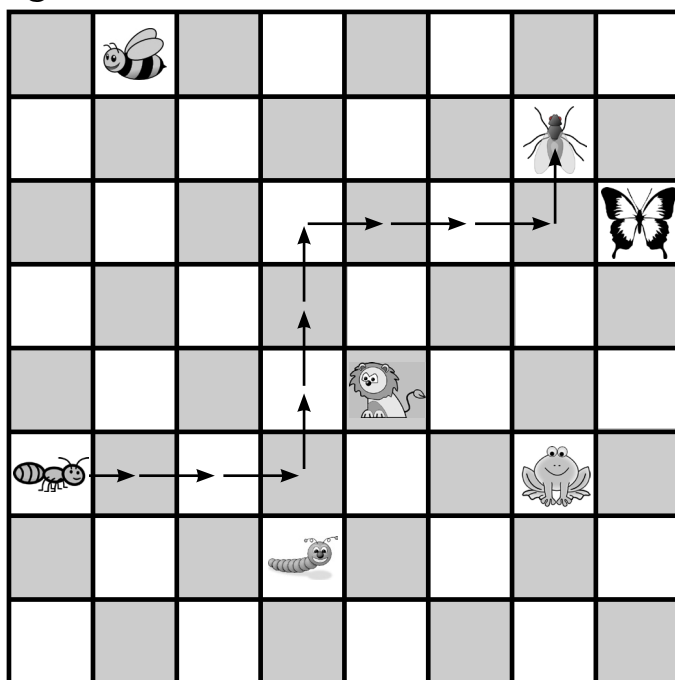
4 Hur många fler grå rutor än vita finns det i bilden?

6      7      8      9      10






5 När myran går 3→, 3↑, 3→, 1↑, kommer hon till flugan.



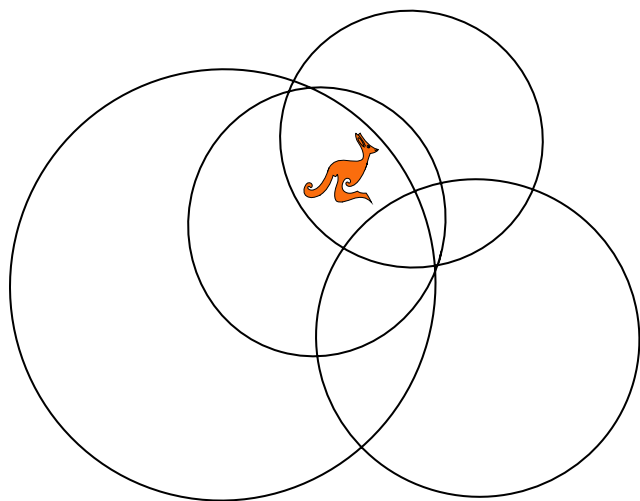
Ringa in rutan hon kommer till när hon går så här:

2→, 2↓, 3→, 3↑, 2→, 2↑.



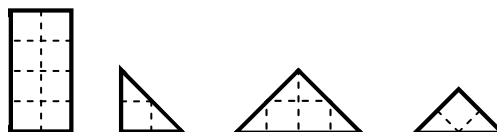


6 Kängu är innanför flera cirklar. Hur många?

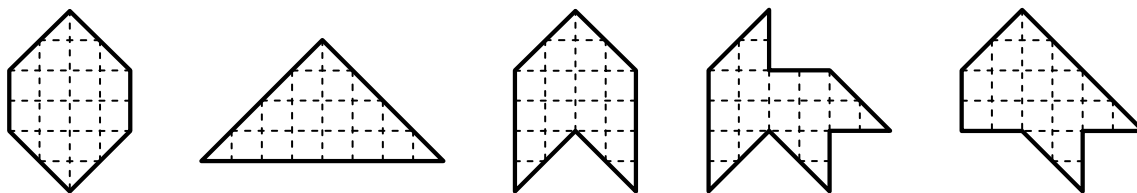


1      2      3      4      5

7 Mia har fyra pusselbitar.



Vilken av dessa former kan hon inte pussla ihop med dem?

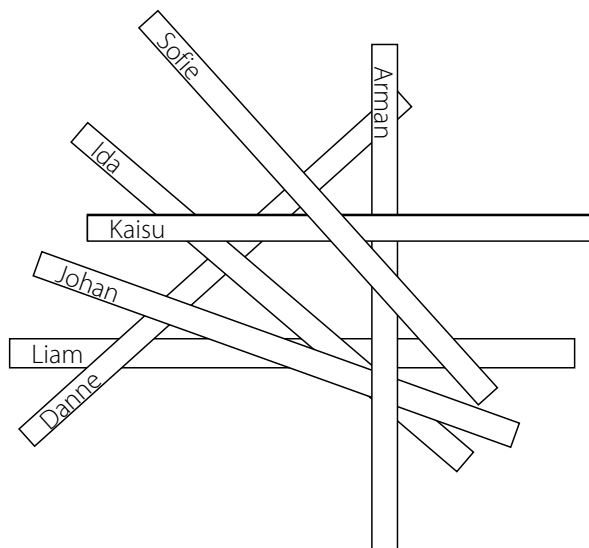


8 Hur många tal som är större än 10 men mindre än 30 kan du skriva med hjälp av siffrorna 1, 2 och 3?

2      4      6      7      8



- 
- 9 John, Sofie, Danne, Kaisu, Arman, Liam och Ida har lagt sina bokmärken i en hög. Vem la sitt märke först?




John Sofie Danne Kaisu Arman Liam Ida

- 
- 10 Kaninen Hampe äter 10 morötter eller 2 kålrötter varje dag. Förra veckan åt han 6 kålrötter. Hur många morötter åt han?

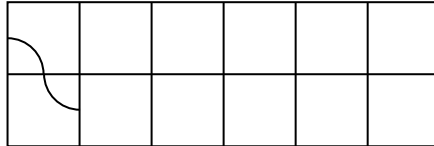
20    30    34    40    50



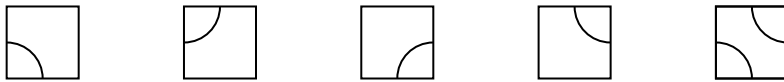


11 Ann har tolv brickor som ser ut så här: 

Hon lägger dem i rutorna så att de bildar en kurvig väg.



Hur ser sista biten av vägen ut?



12 Emil väger mjukisdjur. Hur många ankor väger lika mycket som en krokodil?

