


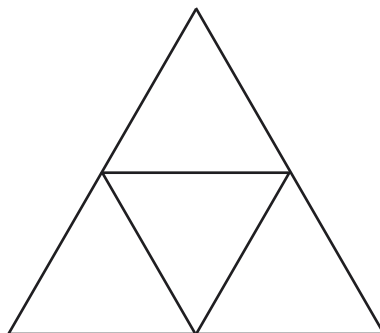
Välkommen till Kängurun –
Matematikens hopp 2008
Milou

Lycka till med årets problem!



Ett övningsproblem att börja med. Ringa in rätt svar.

Hur många trianglar finns det i figuren?



1

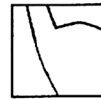
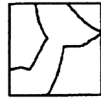
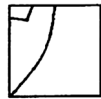

3

4


5

6

1 Vilken pusselbit fattas?



2 Hur många kulor ska du lägga på det högra bordet för att få lika många som på det vänstra?



1

2

3

4

5

3 I morgon är det söndag. Vilken dag var det då igår?

lördag


måndag

fredag

tisdag

torsdag

4 Hur många tärningsögon finns det sammanlagt på de sidor som du inte kan se på bilden?



3


6

9

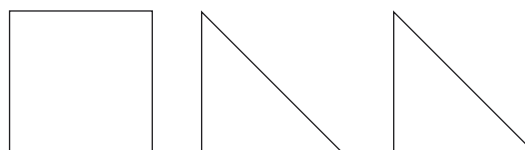
12

21

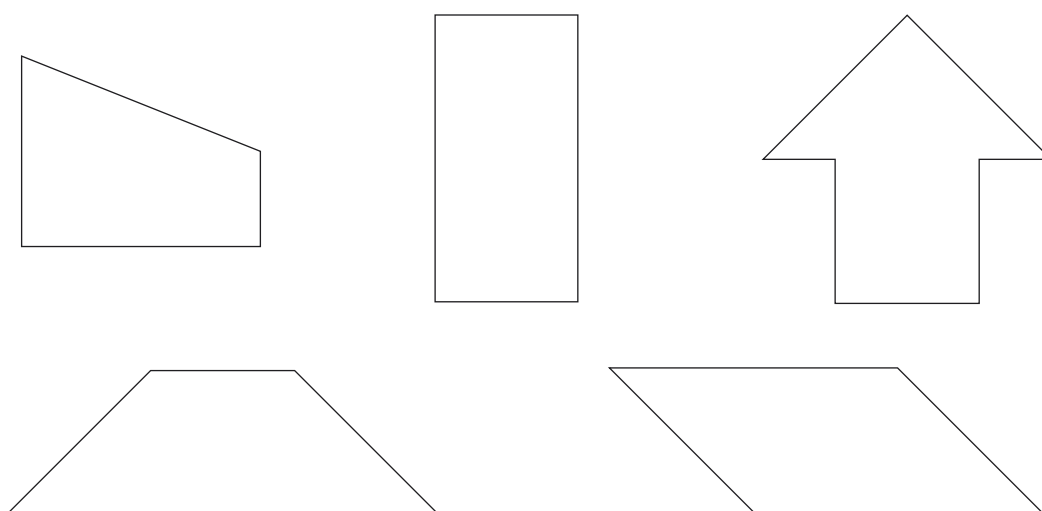
5 På vilken bild är hälften av kakorna hjärtan?



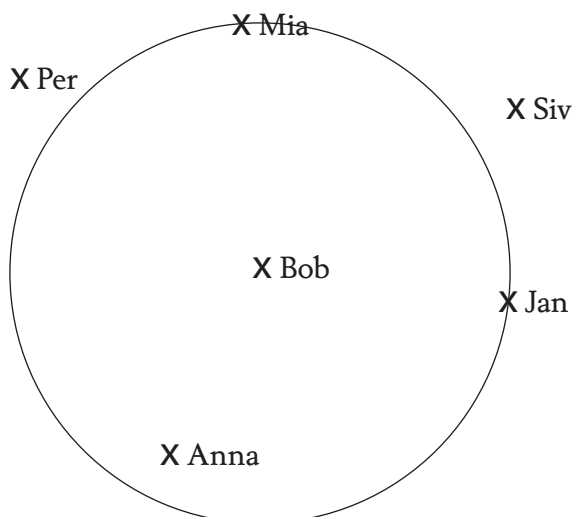
6 Du har tre pusselbitar:



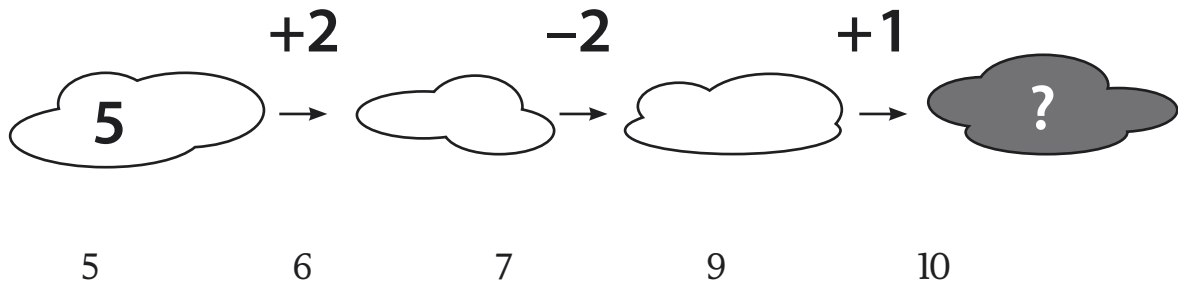
Vilken figur kan du inte bygga?



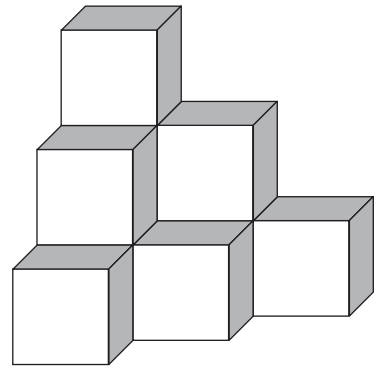
7 I mitten av ringen står Bob.
Vem står närmast Bob?



8 Vilket tal ska stå i det mörka molnet?

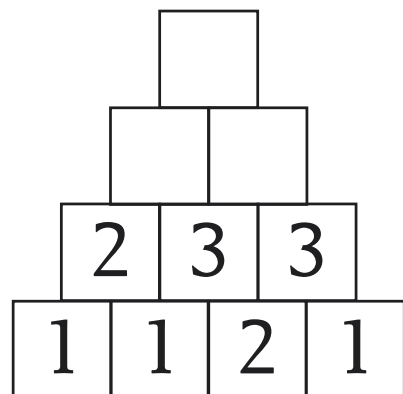


9 Hur många klossar är tornet byggt av?



6 7 8 10 12

10 Vilket tal ska stå i den översta rutan/rutan på toppen?



0 8 11 13 100
